

Prénom :

1

1 Complète les morceaux de lignes des nombres qui ont été découpés :

0	1			4	5								6			9			
5	6				10	11								7	8				
12	11	10	9							2	3								
					14	15													

2 Colorie chaque écriture du nombre du milieu.

5+0	2+3	3+1	0+4
2+2	5		1+1+2
1+4			3+2
2+2+1	0+5	3+3	cinq

4+4	2+2	2+1+1	4+0
0+4	4		1+3
1+1+1+1			1+1+1
quatre	0+0	3+1	2+1

6+1	3+2+3	sept	3+1
4+2+1	7		7+0
1+2+2+2			1+5+1
3+3	cinq	6+2	5+2

3+3	0+6	1+5	5+5
3+2+2	6		2+4
1+3			6+0
5+1	1+1+4	dix	1+4+1

3 Je complète avec <, > ou =







4 . 3
 3 . 4
 5 . 5
 2 . 6
 4 . 2
 3 . 2
 1 . 2
 5 . 9
 5 . 2
 0 . 3

4+1 . 5
 2+1 . 2
 2+2 . 4
 1+1 . 3
 1+3 . 3
 4+1 . 5
 1+2 . 3
 2+3 . 6
 4+4 . 7
 3+1 . 4






















Prénom :

2

4 Dessine suivant les données du tableau :


	4	
	3	
	1	
	0	
	7	
	5	

5 Complète le tableau suivant le dessin :

Prénom :

3

6 Dessine ce que le maître te demande :

1. Colorie en rouge la ligne horizontale.
2. Colorie en bleu la ligne verticale.
3. Dessine un carré vert au-dessus de la ligne rouge.
4. Dessine un rond orange à droite de la ligne bleue.
5. Dessine un sapin à gauche de la ligne bleue et au-dessous de la ligne rouge.
6. Dessine un bonhomme de neige au dessus de la ligne rouge et à droite de la ligne bleue.

7 Calcule le plus vite possible :

(Max :5 min = 300 secondes)

j'ai mis _____ secondes

$4+2=$
$5+3=$
$2+1=$
$3+2=$
$1+8=$
$3+3=$
$4+4=$
$2+2=$
$1+0=$
$3+7=$

$3-1=$
$4-1=$
$5-2=$
$8-4=$
$2-1=$
$2-2=$
$5-1=$
$4-2=$
$9-6=$
$7-5=$

$4-3=$
$3+2=$
$1+1=$
$4-4=$
$5+5=$
$6-2=$
$6+3=$
$6-4=$
$7-1=$
$3+7=$

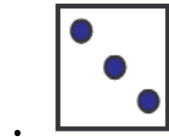
Prénom :

5


10 Relie les écritures des nombres avec ta règle.




. 5 .



. 4 .



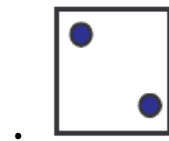
. 2 .



. 1 .



. 3 .



11 Dictées de nombres

écris le nombre demandé :

a:	b:	c:	d:	e:
----	----	----	----	----

entoure le nombre demandé avec la bonne couleur :

0 1 2 3 4 5 6 7 8 9

10 11 12 13 14 15 16 17 18 19

20 21 22 23 24 25 26 27 28 29

30 31

Prénom :

6

12 Où sont les objets ?

	1	2	3	4	5	6	7
A	⊙						
B					🏳️		
C		😊					
D				★			
E	○					☹️	
F							
G			👋				
H							⊕

👋 (__, __)

☹️ (__, __)

🏳️ (__, __)

★ (__, __)

😊 (__, __)

⊙ (__, __)

⊕ (__, __)

○ (__, __)

13 Dessine les objets à la place indiquée

	1	2	3	4	5	6	7
A							
B							
C							
D							
E							
F							
G							
H							

👋 (A,6)

☹️ (D,7)

🏳️ (G,1)

★ (B,5)

😊 (H,4)

⊙ (F,2)

⊕ (E,1)

○ (C,3)